

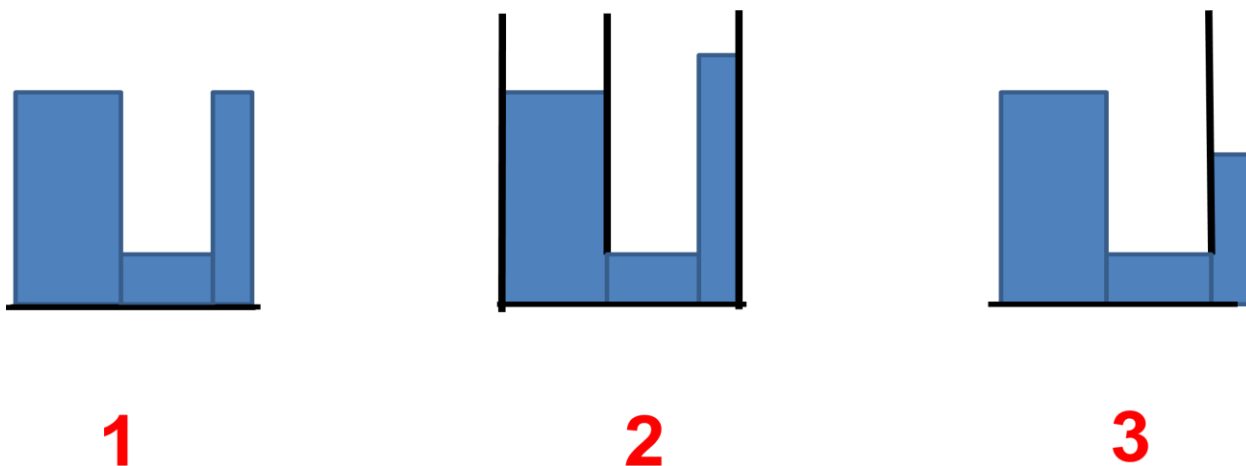
### 1 ЗАДАНИЕ

Свободные поверхности покоящейся жидкости в сообщающихся сосудах находятся.....

- А. На любом уровне чем в маленьком сосуде
- Б. На одном уровне Г. В большем сосуде
- В. В большем сосуде на меньшем уровне,  
на большем уровне, чем в маленьком сосуде

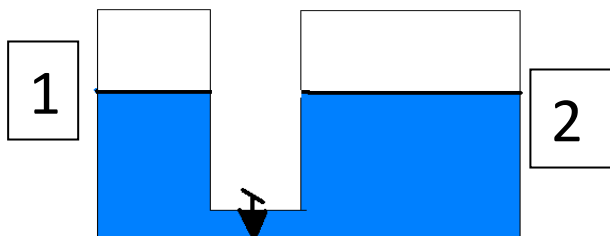
### 2 задание

В каком из сосудов 1,2,3 указано правильно расположение уровней жидкости?



### 3 задание

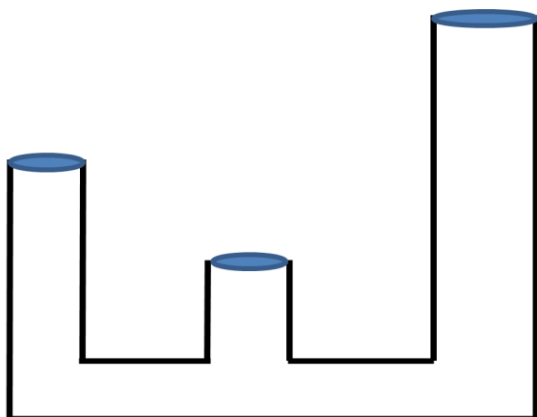
Два сосуда, 1 и 2, заполнены одинаковой жидкостью. Кран К закрыт. Будет ли переливаться жидкость из одного сосуда в другой, если открыть кран?



- А. Не будет переливаться
- Б. Будет из 1 в 2
- В. Будет из 2 в 1

4 задание

Какие из сосудов можно заполнить полностью?



1

2

3

Задание 5

В одно колено сообщающихся сосудов налита ртуть, а в другое вода. Какая жидкость является ртутью? Выберите правильное утверждение.

А - Жидкость А.

Б - Жидкость Б.

